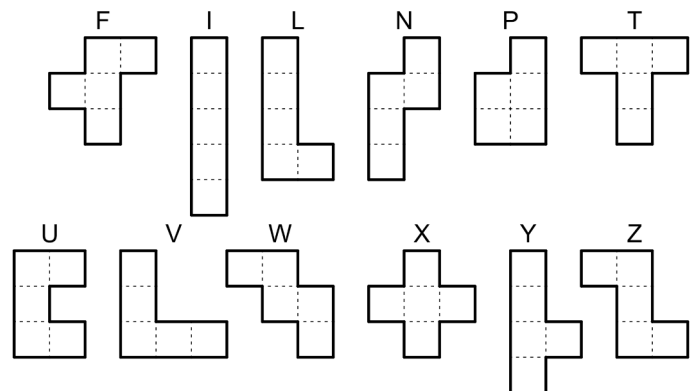
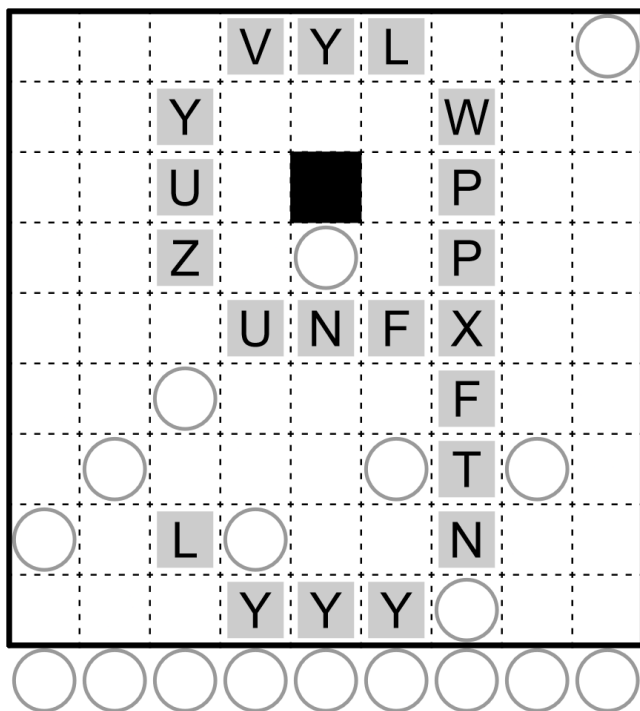
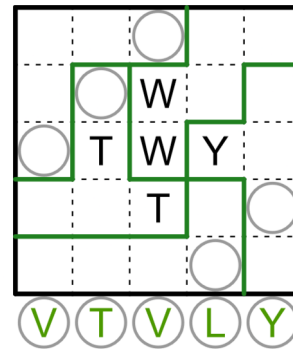
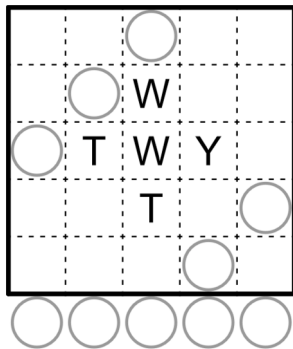


9. December – Pentris

Klaudi už dlho obľubuje hru Tetris. Poslednou dobou sa hráva aj viac cool verziu tejto hry, **Pentris**. Danko sa jej jedného dňa pochválil svojimi vystrihnutými pentominami, ktoré nosieva pod krytom na telefón. Klaudi sa Dankove pentominá, prirodzene, veľmi páčili. Vtedy Dankovi napadol výborný darček – daruje Klaudi nejaké pentominá. Rozhodol sa, že poskladá štvorec zo všetkých pentomín, ktoré má a tie, ktoré nepoužil, venuje Klaudi. Poskladajte taký štvorec aj vy.

Zadanie: Rozdeľte tabuľku na niekoľko päťpolíčkových regiónov, tzv. pentomín. Všetky pentominá sú vedľa tabuľky a môžete ich ľubovoľne otáčať a zrkadliť. Rovnaké pentominá (bez ohľadu na orientáciu) sa nesmú dotýkať stranou (rohom môžu). Písmená hovoria, akému pentomino dané políčko patrí. Pentominá môžu mať jedno, viaceré, alebo aj žiadne písmená, ktoré sú v tabuľke už napísané. To, ktoré písmeno patrí ktorému pentomino máte vyznačené. Krúžky v poliach sú iba na získanie odpovede, počas riešenia ich ignorujte. Pozrite si aj názorný príklad:



Ako odpoveď vypíšte písmená pentomín, ktoré sa nachádzajú na vyznačených krúžkoch. Písmená zadávajúte zľava doprava bez medzier alebo iných oddelovačov. V názornom príklade by ste odovzdali VTVLY.